

FICHE PROJET Filles

Vous devez :

• **Pour la difficulté :**





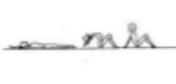















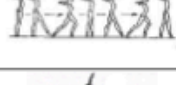








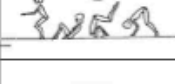










- Entourer les éléments (6 éléments différents au minimum) que vous allez présenter et les numéroter dans l'ordre chronologique
 - Pour connaître votre note de difficulté sur 6 pts, vous devez tout d'abord additionner vos 6 éléments de plus haute valeur sélectionnés, puis trouver, dans le tableau ci-dessous, la correspondance entre le total de points calculé et la note de départ.

POINTS :	2,6	2,8	3	3,2	3,4	3,8	4	4,4	4,8	5,2	5,6	5,8
NOTE :	0,5	1	1,5	2	2,5	3	3,5	4	4,5	5	5,5	6

• **Pour la composition**

- Choisir au moins 1 élément dans chaque famille (ATR / SM / LG / AC)

⚡ **Attention !** 1 point enlevé par famille manquante

Difficultés		A = 0,4	B = 0,6	C = 0,8	D = 1,0
ATR	1				
	2				
SM	3				
	4				
LG	5				
	6				
	7				
AC	8				
	9				
	10				

• **Pour l'exécution**

- Petite faute : - 0,2 pt,
- Grosse faute : - 0,5 pt,
- Chute : - 1 pt

⚡ **Attention !**

- Élément manquant : - 2 pts
- Durée < 30'' ou > 1' : -1 pt
- Moins d'une diagonale et un côté : -1 pt

**Points retirés en exécution
par le jury :**

Difficulté	/ 6
Exécution	/ 8
Composition	/ 3

• **Rôle de juge**

De 0 à 1 pt	De 1.5 à 2 pts	De 2.5 à 3 pts
Ne repère pas ou peu la difficulté des éléments exécutés. Identifie de façon approximative les fautes d'exécution.	Repère la plupart des éléments exécutés. Identifie globalement les fautes d'exécution.	Repère l'ensemble des éléments exécutés. Connait précisément les critères de notation.

Juge	/ 3
------	-----

Note finale	/ 20
--------------------	-------------